

DĚJEPIS





ucelená řada pro 6.–9. ročník

VŽDY AKTUÁLNÍ DOLOŽKY MŠMT

**S NÁMI
SE
UČTE...**

S učebnicemi...




uvádějte dějinné události do souvislostí • průběžně opakujte • podpořte zapamatování přehledným shrnutím



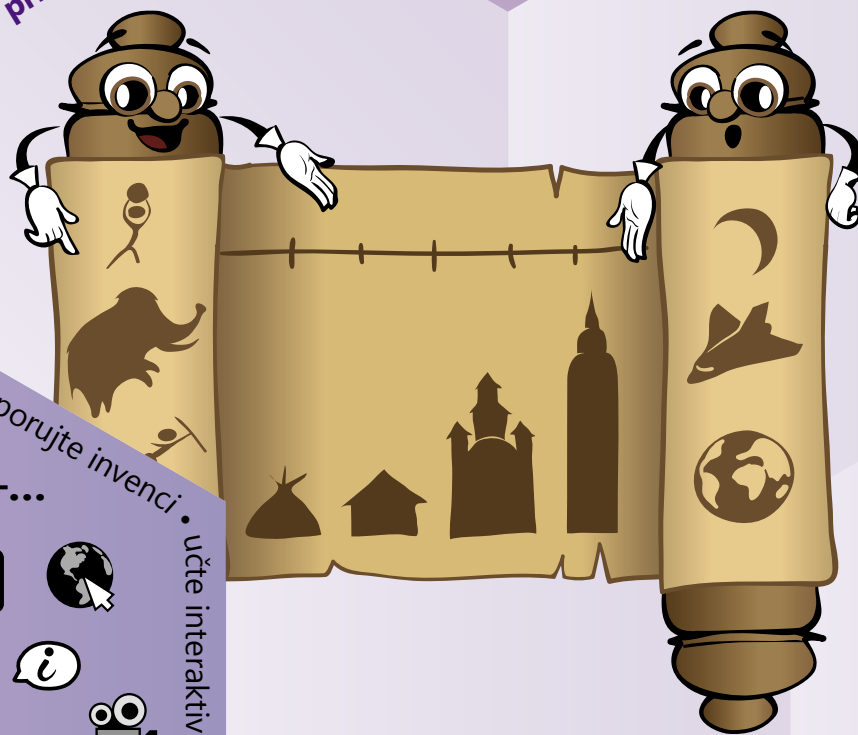
systematicky a hravě

S pracovními sešity...

navazte na práci s učebnicí • aplikujte čtení s porozuměním • zpestřte výuku zajímavostmi • poznávejte názorně • využijte mezipředmětového propojení • moderně a osvědčenými postupy



přiměřeně věku a přesně



S MIUČ+...

motivujte • poznávejte • procvičujte • podporujte invenci • učte interaktivně



AKCE PRO ŠKOLY

Při zakoupení vybraného pracovního sešitu **Dějepis 6, 7, 8** nebo **9** pro celou třídu získáte **ZDARMA** licenční certifikát na aktivaci kterékoli **MIUČ+** dle vlastního výběru na školní rok 2020/2021 (školní multilicence a žákovské licence).





Akce je poskytována pouze školám při nákupu na nns.cz nebo u partnerů akcí.

Seznam partnerů akcí naleznete na nns.cz/akce. Na objednávku připište „Akce D“.

Akce platí do **30. 9. 2020**.



Učebnice dějepis 6.–9. ročník



6. VZTAHY MEZI VÝCHODEM A ZÁPADEM V DOBĚ STUDENÉ VÁLKY

STŘÍDAVÉ OCHLAZOVÁNÍ A UVOLŇOVÁNÍ NAPĚTÍ

Po dobu studené války se vzájemné **vztahy mezi Západem a Východem** střídavě zlepšovaly a zhoršovaly. Do značné míry to záviselo na nejvyšších státnících obou velmocí – Sovětského svazu a USA. K **uvolnění mezinárodního napětí** došlo koncem 50. let za Stalínova nástupce **Nikity Sergejeviče Chruščova** a nového amerického prezidenta **Johna Fitzgeralda Kennedyho** [džona fidžerlda]. V roce 1963 byl např. přijat zákaz vojenských jaderných pokusů v kosmu, ve vodě a v ovzduší.



Schůzka N. S. Chruščova s J. F. Kennedyem

Kennedy se stal v roce 1963 obětí atentátu. Chruščov byl odvolán z vedení státu a nahrazen Leonidem Iljičem Brežněvem. To byl konec nadějí na sblížení obou velmocí.



Amatérský snímek zachycující situaci po atentátu na amerického prezidenta Kennedyho

Kde úřadují američtí prezidenti? Kdo je současným prezidentem USA?

Zamyslete se nad následujícími slovy amerického prezidenta Kennedyho, která pronesl k Američanům: „Nepřej se, co může tvá země udělat pro tebe – přej se, co můžeš ty udělat pro svou zemi.“

Jsou Kennedyho slova aktuální i v současné době, nebo měla smysl jen v období studené války?

Další uvolnění v mezinárodních vztazích nastalo od konce 60. let. Stále častější schůzky mezi americkými a sovětskými státníky přinesly výsledky. Byla uzavřena řada vojenských, politických i obchodních dohod. K těm nejvýznamnějším patřila **dohoda** mezi USA a SSSR o **omezení počtu jaderných zbraní** známá pod zkratkou **SALT** (Strategic Arms Limitation Talks). Podepsali ji sovětský státník Leonid Iljič Brežněv a americký prezident Richard Nixon.



Na karikatuře se přetlačují o moc představitelé SSSR a USA N. S. Chruščov a J. F. Kennedy, oba sedí na jaderných zbraních

Pro evropské státy mělo velký význam **Prohlášení o bezpečnosti a spolupráci v Evropě**, které na konferenci v **Helsinkách** v roce **1975** podepsali představitelé USA, Kanady a třiceti tří evropských států. Všechny zúčastněné státy včetně východoevropských se v tomto prohlášení zavázaly dodržovat lidská práva svých občanů.

Vymenujte, co patří k základním lidským právům.

Do kterého státu bychom cestovali, kdybychom chtěli navštívit Helsinky? Ukažte tento stát i Helsinky na mapě.

Ze Závěrečného aktu Konference o bezpečnosti a spolupráci v Evropě, část Kontakty mezi lidmi: „Zúčastněné státy, považující rozvoj kontaktů za důležitý prvek k upevnování přátelských vztahů a důvěry mezi národy, ... mají usnadňovat širší cestování svých občanů z osobních a profesionálních důvodů, ... jsou toho názoru, že turismus přispívá k úplnějšímu poznání života, kultury, dějin druhých zemí, ... mají v úmyslu přispívat k rozvoji kontaktů a výměn mezi mladými lidmi, ... budou podporovat vhodné kontakty a výměny, včetně sportovních setkání a soutěží všeho druhu...“

(Dokumenty Konference o bezpečnosti a spolupráci v Evropě, Praha 1975)

Jaký máte názor na uvedenou pasáž o mezinárodních kontaktech mezi lidmi?

Do kterých států mohou občané České republiky cestovat bez pasu, do kterých ještě potřebují vízum?

napětí: *anglicky – tension* ['tenʃn] *německy – die Spannung*
omezit (něco): *anglicky – reduce* [ri'dju:s] *německy – (etwas) reduzieren*

Helsinky: Zeměpis 8, 1. díl, str. 41

Názorná schémata a grafy, množství obrázků a fotografií.

Srozumitelně psané texty.

Z Zajímavosti pro zpestření výuky.

Opakovací úkoly a úkoly, které uvádějí probrané učivo do souvislostí.

Skupinové úkoly, kdy žáci pracují v týmech.

Úkoly k vyhledání dalších informací v odborné literatuře nebo na internetu.

Z ČJ PŘ OV Mezipředmětové vazby.

Práce s mapou.

Ukázky z literatury.

Tvořivé úkoly.

PT Řada průřezových témat.





Klíč s řešením vybraných úkolů na konci učebnice.

Klíčová slova uvedená v angličtině a němčině.

Odkaz na korespondující učivo v ostatních učebnicích z řady.



Pracovní sešity dějepis 6.–9. ročník a pomůcky



Úvodní text na procvičení čtení s porozuměním.

Různorodá, zábavná cvičení.

Tyto sešity lze využít i místo vlastního sešitu žáka.

Přehled učiva uprostřed každého pracovního sešitu.

2. ČECHY PO HUSITSKÉ REVOLUCI

Český sněm v Praze zvolil 27. dubna 1452 za zemského správce na dobu dvou let Jiřího z Poděbrad; nápomocna mu měla být jednatelická rada (4 páni z jednoty strakonické, 5 rytířů z jednoty poděbradské a 2 zástupci měst). Tím mělo skončit období rozbrojů a třenic a měl být zabezpečen klidný rozvoj země. Oldřich z Rožmberka se však připravoval k odporu (k opozici se přidala i města Tábor, Žatec, Louny a další).

(František Čapka: Dějiny země Koruny české v datech, zkráceno)

Jak se stal Jiří z Poděbrad správcem v Čechách?

Souhlasili s tím všichni?

1. Na časovou osu zaneste následující události.
 vynález knihtisku; volba Jiřího z Poděbrad správcem v českých zemích; dobytí Konstantinopole; zvolení Jiřího z Poděbrad českým králem

2. Jsou tvrzení v tabulce pravdivá? Pokud ne, opravte je v pravém sloupci.

Po smrti Zikmunda Lucemburského zvolila část šlechty Albrechta Habsburského českým králem.	
Ladislav Pohrobek nastoupil na český trůn po otcově smrti.	
Jiří z Poděbrad sesadil Ladislava Pohrobka a zmocnil se vlády v Čechách.	
Knihtisk vynalezl Jan Kuttenberg z Kutné Hory před rokem 1450.	
Ladislav Pohrobek vládl i v Uhrách, Rakousku a stal se císařem.	

3. Do sloupců pod sebe seřaďte vždy tři pojmy, které souvisejí s pojmem uvedeným na začátku sloupce.

spor mezi Jiřím z Poděbrad a papežem; nenásilné řešení sporů; Konstantinopol; Petr Chelčický; Matyáš Korvín; zámořské objevy; zajetí i Vilémova; prostý život; 1453

turecké nebezpečí	křížová výprava do Čech	jednota bratrská

4. Vyberte správné tvrzení o vládě Jiřího z Poděbrad a špatné tvrzení skrtněte.

a) Jiří z Poděbrad byl zvolen českým byzantským králem v roce 1458.
 b) Pocházel z panovnického rodu *rad české šlechty*.

str. 82–84

ČECHY PO HUSITSKÉ REVOLUCI

c) Podporoval obchod, řemesla a těžbu stříbra v Poděbradech | Kutné Ho...
 d) Jiří z Poděbrad se dostal do sporu s papežem | patriarchou, který vyhlásil křížovou výpravu.
 e) Tuto křížovou výpravu vedl Prokop Holý | Matyáš Korvín.

5. Odpovězte na otázky.

a) Kdy zemřel Jiří z Poděbrad?

b) S kým do konce svého života Jiří z Poděbrad válčil?

c) Proč vyslal Jiří z Poděbrad do Evropy mírová poselstva?

d) Kdy vznikla jednota bratrská?

e) Kdo byl Petr Chelčický?

f) S kým jednal Jiří z Poděbrad o nástupnictví?

6. Doplněte tabulku s panovníky v Čechách po husitské revoluci.
Jiří z Poděbrad; český král; Albrecht Habsburský; narodil se po smrti svého otce Albrechta Habsburského; český král; zeť Zikmunda Lucemburského; český král; nepocházel z panovnického rodu

Ladislav Pohrobek	
(1458–1471)	zemský správce.

7. Doplňte křížovku a vysvětlete pojem, který získáte v tajence.

- Králem v Uhrách byl...
- Jan Hus byl upálen v...
- Konstantinopol byl přejmenován na...
- Otec Ladislava Pohrobka byl Albrecht...
- Chelčický se jmenoval...
- Pohrobek se jmenoval...
- Jiří z Poděbrad byl zvolen zemským...
- Jakou výpravu vyhlásil papež?

Řešením je slovo což znamená

K čemu přispěl tento vynález?

str. 82–84



PŘÍLOHA 1: SHRNTÍ UČIVA DĚJEPISU 8

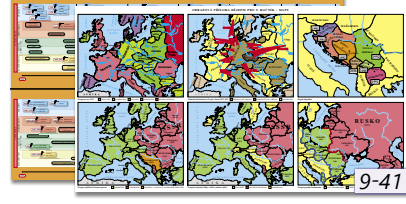
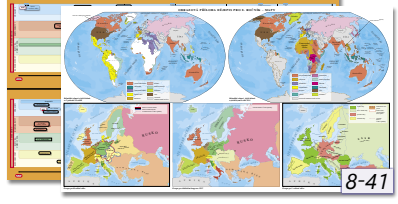
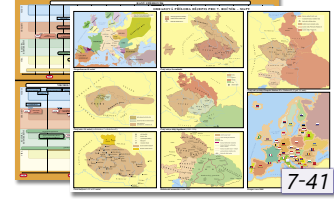
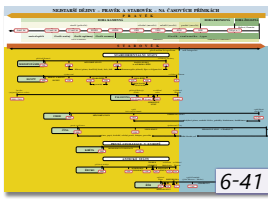
I. EVROPA PO TRICETILETÉ VÁLCE

1. PROMĚNY EVROPSKÝCH STÁTŮ
 Po třicetileté válce se hlavními evropskými mocnostmi staly Francie, Anglie a Švédsko. Svátá říše římská své postavení ztratila. Novým významným evropským státem se stalo Prusko.

2. HABSBUŘSKÁ MONARCHIE VE 2. POLOVINĚ 17. AŽ 1. POLOVINĚ 18. STOLETÍ
 Po třicetileté válce byl v českých zemích z důvodu nedostatku pracovních sil zvyšován počet robotních dní a byla také omezoována práva poddaných. Koncem 17. století se situace zlepšila, byly zakládány první manufaktury, které vyráběly větší množství zboží a levněji než řemeslnické dílny.
 Turci znovu zahájili výboje do střední Evropy. U Vidně byli roku 1683 poraženi a vytačeni směrem na východ a na jih. Habsburkové získali i část Uher, která patřila dříve Turecku.
 V 18. století proběhly války mezi Francií a habsburskou monarchií o prázdný španělský trůn, který nakonec získala

PŘÍLOHA 4: PŘEHLED DĚJIN

VLÁDCI, POLITICKÉ	UDÁLOSTI	VÍRA, ATMOSFÉRA DOBY	KULTURA A HOSPODÁŘSTVÍ
Leopold I.	války s Turky	upevnění katolického vyzn.	zvyšování roboty povstání poddaných
Karel VI.	války o španělské dědictví mezi Francií a habsburskou monarchií	útsk Židů, pogromy; vrcholí pronásledování nakatolíky	selekt baroko



6-40 Dějepis 6 – Pravěk, starověk	U D A4	140 str.	159,-
6-41 Časové přímky k Dějepis 6			19,-
6-42 Dějepis 6 – Pravěk, starověk	PS A4	80 str.	74,-
6-43 Dějepis 6 – Pravěk, starověk	PS A4	80 str.	84,-
7-40 Dějepis 7 – Středověk, počátky novověku	U D A4	136 str.	159,-
7-41 Časové přímky a mapy k Dějepis 7			19,-
7-42 Dějepis 7 – Středověk, počátky novověku	PS A4	80 str.	74,-
7-43 Dějepis 7 – Středověk, počátky novověku	PS A4	80 str.	84,-

8-40 Dějepis 8 – Novověk	U D A4	132 str.	159,-
8-41 Časové přímky a mapy k Dějepis 8			19,-
8-43 Dějepis 8 – Novověk	PS A4	80 str.	84,-
9-40 Dějepis 9 – Novověk, moderní dějiny	U D A4	144 str.	159,-
9-41 Časové přímky a mapy k Dějepis 9			19,-
9-42 Dějepis 9 – Novověk, moderní dějiny	PS A4	80 str.	74,-
9-43 Dějepis 9 – Novověk, moderní dějiny	PS A4	80 str.	84,-

šedě označené tituly – doprodej dvoubarevných sešitů

Multimediální interaktivní učebnice zahrnuje interaktivní verzi tištěné učebnice a pracovního sešitu a multimédia.

- Jednotlivé **texty, fotografie** apod. se kliknutím zvětší do samostatného okna.
- Video** doplněné kontrolními otázkami.
- Audionahrávka** textu učebnice.
- Webový odkaz** na stránky se zajímavostmi, doplňujícími informacemi apod.
- Zábavné **interaktivní cvičení**.
- Interaktivní verze pracovního sešitu.
- Anglická slovíčka namluvená roditelým mluvčím.
- Snadné přecházení mezi učebnicí a prac. sešitem.
- Vyučující si mohou vložit vlastní materiály.

Časová přímkva III

Události a osobnosti egyptských dějin se nám popletly. Pomozte nám je správně seřadit na časovou osu od nejstaršího po nejmladší.

Tutanchamónova hrobka

Úkoly a otázky k zamyšlení

- Kde se nachází Tutanchamónova hrobka? Kolik má místností?
- K čemu měly sloužit bílé vejčité schránky?
- Jak vypadá Tutanchamónova maska? Z čeho je vyrobena a jaký je její účel?
- K čemu sloužila kanonická truhla a ve které místnosti byla umístěna?
- Jaký význam měly pohřební sošky vešebty? Jaké předměty vás nejvíce zaujaly?

Vyzkoušejte zdarma kteroukoli MIUČ+ na 30 dní. Bližší podmínky a postup instalace naleznete na www.miuplus.cz.

- MIUČ+ lze zakoupit v licencích:
- časově neomezená školní multilicence
 - školní multilicence na 1 školní rok

- školní licence pro 1 učitele na 1 školní rok
- žakovská licence na 1 školní rok



Název titulu	Typ licence	Škola (neomezeně)		Škola (1 rok)		Učitel (1 rok)		Žák (1 rok)	
		kat. č.	cena	kat. č.	cena	kat. č.	cena	kat. č.	cena
MIUČ+ Dějepis 6 – Pravěk, starověk (U + PS)		6-40-1	8990,-	6-40-3	1490,-	6-40-T	890,-	6-40-4	99,-
MIUČ+ Dějepis 7 – Středověk, počátky novověku (U + PS)		7-40-1	8990,-	7-40-3	1490,-	7-40-T	890,-	7-40-4	99,-
MIUČ+ Dějepis 8 – Novověk (U + PS)		8-40-1	8990,-	8-40-3	1490,-	8-40-T	890,-	8-40-4	99,-
MIUČ+ Dějepis 9 – Novověk, moderní dějiny (U + PS)		9-40-1	8990,-	9-40-3	1490,-	9-40-T	890,-	9-40-4	99,-